

LISTA DE ASISTENCIA

CODIGO: FO-RH-T-08
VERSIÓN: 1

NOMBRE RESPONSABLE:

PROCESO / PROYECTO:

LUGAR DE REUNIÓN

TEMA A TRATAR:

FECHA (DD/MM/AAAA):

HORA INICIO:

HORA FIN:

TIPO DE ACTIVIDAD:

Capacitación: ☒ Entrenamiento: ☐ Inducción: ☐ Charla: ☐ Otro, ¿Cuál?: Divulgación



Nº	NOMBRE	No. DOCUMENTO	PROCESO Y/O PROYECTO	CARGO	FIRMA
1	JESSICA MAHERHA	102775194	MEN	AUX DE ARCHIVO	JESSICA MAHERHA
2	Raul Pizaguel	1016283028	MEN	Tecnico	Raul Pizaguel
3	Marina Sthor R	39425993	MEN	Tecnico	Marina Sthor R
4	Ledy Acuña	1032394026	MEN	Tecnico	Ledy Acuña
5	Teolca Suppes	1013098647	MEN	Auxiliar Arch	Teolca
6	Maria Fernandetha	1021161158	MEN	Auxiliar Arch	Maria Fernandetha
7	Ana Lucia Rodriguez	51792873	MEN	Auxiliar Arch	Ana Lucia Rodriguez
8	Mayerli Arismendi	1019107140	MEN	Tecnico	Mayerli Arismendi
9	Milena Lopez	1007333740	MEN	Auxiliar Arch	Milena Lopez
10	Daniela Velásquez	1095486424	MEN	Tecnico	Daniela Velásquez
11	Rosely Suarez	1024499863	MEN	Tecnico	Rosely Suarez
12	Valentina Pastern	10114301668	MEN	Técnico	Valt.
13	Edwin Salamanca	79880259	MEN	Tecnico	Edwin S
14	Jenny Alejandra Deras	1032477658	MEN	TECNICO	JA
15	Angie Clajo Ayda	1024573566	MEN	Tecnico	Angie Clajo
16	Angelica Martinez H	39576909	MEN	Tecnico	Angelica Martinez H
17	Sandra Patricia	52258758	MEN	COORDINADOR	Sandra Patricia
18	Claydia Sosa	52635557	MEN	Tecnico	Claydia Sosa
19	Mayber Arivalo	1016022058	MEN	Tecnico	Mayber Arivalo
20					
21					
22					

OBSERVACIONES:

Realizó:

Etiqueta:

COLLAMOCHATO

 CONSORCIO PYSEAP 2022 	EVALUACIÓN DE CONOCIMIENTOS		CÓDIGO. FO-SST-T-T23
			VERSIÓN. 1
			Pág. 1 de 2

TEMA CAPACITACIÓN	SEGURIDAD VIAL	Fecha	01-11-2023
		Hora Inicio	6:40am
Nombres	JESSICA MATHELINE MATHECIA CUENTES	Número de identificación	1020775194
Proyecto	mgd	Resultado	4

Etiqueta

R

Con sinceridad y de manera independiente responda las siguientes preguntas. Gracias por su colaboración.

PREGUNTAS

1. Cual es la norma que regula el Código Nacional de Tránsito.

- ☒ a. Ley 769 de 2002
- b. Ley 756 de 2010
- c. Ley 710 de 2015

2. indique el tipo de señales que contiene el Código Nacional de Tránsito.

- ☒ a. Preventivas, Informativas, Restrictivas.
- b. Informativas, Restrictivas, de orden.
- c. Preventivas, de orden, Informativas

3. Indique la jerarquía de priorización de actores Viales

- ☒ a. Peatones, ciclistas, motos, transporte de carga, autos y transporte público.
- b. Autos, motos, Peatones, ciclistas, transporte público y transporte de carga.
- c. Peatones, ciclistas, transporte público, transporte de carga, autos y motos.

4. Se define como el suceso ocasionando o en el que haya intervenido un vehículo automotor en una vía pública o privada con acceso al público.



- a. Accidente laboral.
- b. Deceso vial.
- ☒ c. Accidente de tránsito.

5. ¿Por qué el signo PARE tiene ocho lados?

- a) Porque evita más accidentes que las de forma rectangular.
- ☒ b. Sus ocho lados son los 8 segundos que debemos esperar para pasar.
- c) a y b son correctas.

Observaciones y sugerencias

--

 	EVALUACIÓN DE CONOCIMIENTOS		CÓDIGO. FO-SST-T-T23
			VERSIÓN. 1
			Pág. 1 de 2

TEMA CAPACITACIÓN	SEGURIDAD VIAL	Fecha	01-11-2023
		Hora Inicio 6:40	Hora Fin 7:40
Nombres	<i>Raul David Piragrive</i>	Número de identificación	1026283028
Proyecto	MEN	Resultado	4

Etiqueta

R

Con sinceridad y de manera independiente responda las siguientes preguntas. Gracias por su colaboración.

PREGUNTAS

1. Cual es la norma que regula el Código Nacional de Tránsito.

- ☒ a. Ley 769 de 2002
- b. Ley 756 de 2010
- c. Ley 710 de 2015

2. indique el tipo de señales que contiene el Código Nacional de Tránsito.

- ☒ a. Preventivas, Informativas, Restrictivas.
- b. Informativas, Restrictivas, de orden.
- c. Preventivas, de orden, Informativas

3. Indique la jerarquía de priorización de actores Viales

- ☒ a. Peatones, ciclistas, motos, transporte de carga, autos y transporte público.
- b. Autos, motos, Peatones, ciclistas, transporte público y transporte de carga.
- c. Peatones, ciclistas, transporte público, transporte de carga, autos y motos.

4. Se define como el suceso ocasionando o en el que haya intervenido un vehículo automotor en una vía pública o privada con acceso al público.



- a. Accidente laboral.
- b. Deceso vial.
- ☒ c. Accidente de tránsito.

5. ¿Por qué el signo PARE tiene ocho lados?

- a) Porque evita más accidentes que las de forma rectangular.
- ☒ b. Sus ocho lados son los 8 segundos que debemos esperar para pasar.
- c) a y b son correctas.

Observaciones y sugerencias

--

 	EVALUACIÓN DE CONOCIMIENTOS		CÓDIGO. FO-SST-T-T23	
			VERSIÓN. 1	
			Pág. 1 de 2	

TEMA CAPACITACIÓN	SEGURIDAD VIAL	Fecha	01-11-2023	
		Hora Inicio	6:40	Hora Fin 7:40pm
Nombres	Marlene Esther Rodriguez S.	Número de identificación	39 425 993	
Proyecto	MCU	Resultado	4	

Etiqueta

R

Con sinceridad y de manera independiente responda las siguientes preguntas. Gracias por su colaboración.

PREGUNTAS

1. Cual es la norma que regula el Código Nacional de Tránsito.

- a. Ley 769 de 2002 ☒
- b. Ley 756 de 2010
- c. Ley 710 de 2015

1

2. indique el tipo de señales que contiene el Código Nacional de Tránsito.

- ☒ a. Preventivas, Informativas, Restrictivas.
- b. Informativas, Restrictivas, de orden.
- c. Preventivas, de orden, Informativas

1

3. Indique la jerarquía de priorización de actores Viales

- ☒ a. Peatones, ciclistas, motos, transporte de carga, autos y transporte público.
- b. Autos, motos, Peatones, ciclistas, transporte público y transporte de carga.
- c. Peatones, ciclistas, transporte público, transporte de carga, autos y motos.

0

4. Se define como el suceso ocasionando o en el que haya intervenido un vehículo automotor en una vía pública o privada con acceso al público.

- a. Accidente laboral.
- b. Deceso vial.
- ☒ c. Accidente de tránsito.

1



5. ¿Por qué el signo PARE tiene ocho lados?

- a) Porque evita más accidentes que las de forma rectangular.
- ☒ b) Sus ocho lados son los 8 segundos que debemos esperar para pasar.
- c) a y b son correctas.

1

Observaciones y sugerencias

--

 	EVALUACIÓN DE CONOCIMIENTOS		CÓDIGO: FO-SST-T-T23	
			VERSIÓN: 1	
			Pág. 1 de 2	

TEMA CAPACITACIÓN	SEGURIDAD VIAL	Fecha	01-11-2023	
		Hora Inicio	6:40am	Hora Fin 7:40am
Nombres	CADY MARYORY ACUÑA RUIZ	Número de identificación	1032394026	
Proyecto	MEN	Resultado	9	

Etiqueta

R

Con sinceridad y de manera independiente responda las siguientes preguntas. Gracias por su colaboración.

PREGUNTAS

1. Cual es la norma que regula el Código Nacional de Tránsito.

- ☒ a. Ley 769 de 2002
- b. Ley 756 de 2010
- c. Ley 710 de 2015

2. indique el tipo de señales que contiene el Código Nacional de Tránsito.

- ☒ a. Preventivas, Informativas, Restrictivas.
- b. Informativas, Restrictivas, de orden.
- c. Preventivas, de orden, Informativas

3. Indique la jerarquía de priorización de actores Viales

- ☒ a. Peatones, ciclistas, motos, transporte de carga, autos y transporte público.
- b. Autos, motos, Peatones, ciclistas, transporte público y transporte de carga.
- c. Peatones, ciclistas, transporte público, transporte de carga, autos y motos.

4. Se define como el suceso ocasionando o en el que haya intervenido un vehículo automotor en una vía pública o privada con acceso al público.



- a. Accidente laboral.
- b. Deceso vial.
- ☒ c. Accidente de tránsito.

5. ¿Por qué el signo PARE tiene ocho lados?

- a) Porque evita más accidentes que las de forma rectangular.
- b) Sus ocho lados son los 8 segundos que debemos esperar para pasar.
- ☒ c) a y b son correctas.

Observaciones y sugerencias

--

 CONSORCIO PYSSEAP 2002 	EVALUACIÓN DE CONOCIMIENTOS		CÓDIGO. FO-SST-T-T23
			VERSIÓN. 1
			Pág. 1 de 2

TEMA CAPACITACIÓN	SEGURIDAD VIAL	Fecha 01-11-2023	
		Hora Inicio 6:40 am	Hora Fin 7:00 am
Nombres	Jessica Daniela Zabala	Número de identificación	1013098647
Proyecto	MEN	Resultado	5

Etiqueta

R

Con sinceridad y de manera independiente responda las siguientes preguntas. Gracias por su colaboración.

PREGUNTAS

1. Cual es la norma que regula el Código Nacional de Tránsito.

- ☒ a. Ley 769 de 2002
- b. Ley 756 de 2010
- c. Ley 710 de 2015

2. Indique el tipo de señales que contiene el Código Nacional de Tránsito.

- ☒ a. Preventivas, Informativas, Restrictivas.
- b. Informativas, Restrictivas, de orden.
- c. Preventivas, de orden, Informativas

3. Indique la jerarquía de priorización de actores Viales

- a. Peatones, ciclistas, motos, transporte de carga, autos y transporte público.
- b. Autos, motos, Peatones, ciclistas, transporte público y transporte de carga.
- ☒ c. Peatones, ciclistas, transporte público, transporte de carga, autos y motos.

4. Se define como el suceso ocasionando o en el que haya intervenido un vehículo automotor en una vía pública o privada con acceso al público.



- a. Accidente laboral.
- b. Deceso vial.
- ☒ c. Accidente de tránsito.

5. ¿Por qué el signo PARE tiene ocho lados?

- a) Porque evita más accidentes que las de forma rectangular.
- b) Sus ocho lados son los 8 segundos que debemos esperar para pasar.
- ☒ c. a y b son correctas.

Observaciones y sugerencias

--

 CONSORCIO PYSKAP 2022 	EVALUACIÓN DE CONOCIMIENTOS		CÓDIGO: FO-SST-T-T23
			VERSIÓN: 1
			Pág. 1 de 2

TEMA CAPACITACIÓN	SEGURIDAD VIAL	Fecha	01-11-2023
		Hora Inicio	6:00pm
Nombres	Maria Fernanda Herrera	Número de identificación	1024464158
Proyecto	Ministerio de educación	Resultado	5

Etiqueta

R

Con sinceridad y de manera independiente responda las siguientes preguntas. Gracias por su colaboración.

PREGUNTAS

1. Cual es la norma que regula el Código Nacional de Tránsito.

- ☒ a. Ley 769 de 2002
- b. Ley 756 de 2010
- c. Ley 710 de 2015

2. Indique el tipo de señales que contiene el Código Nacional de Tránsito.

- ☒ a. Preventivas, Informativas, Restrictivas.
- b. Informativas, Restrictivas, de orden.
- c. Preventivas, de orden, Informativas

3. Indique la jerarquía de priorización de actores Viales

- a. Peatones, ciclistas, motos, transporte de carga, autos y transporte público.
- b. Autos, motos, Peatones, ciclistas, transporte público y transporte de carga.
- ☒ c. Peatones, ciclistas, transporte público, transporte de carga, autos y motos.

4. Se define como el suceso ocasionando o en el que haya intervenido un vehículo automotor en una vía pública o privada con acceso al público.



- a. Accidente laboral.
- b. Deceso vial.
- ☒ c. Accidente de tránsito.

5. ¿Por qué el signo PARE tiene ocho lados?

- a) Porque evita más accidentes que las de forma rectangular.
- b) Sus ocho lados son los 8 segundos que debemos esperar para pasar.
- ☒ c. a y b son correctas.

Observaciones y sugerencias

--

 	EVALUACIÓN DE CONOCIMIENTOS		CÓDIGO: FO-SST-T-T23
			VERSIÓN: 1
			Pág. 1 de 2

TEMA CAPACITACIÓN	SEGURIDAD VIAL	Fecha	01-11-2023
		Hora Inicio	6:00am
Nombres	Dña. Rodriguez	Número de identificación	51792893
Proyecto	MEU	Resultado	4

Etiqueta

R

Con sinceridad y de manera independiente responda las siguientes preguntas. Gracias por su colaboración.

PREGUNTAS

1. Cual es la norma que regula el Código Nacional de Tránsito.

- ☒ a. Ley 769 de 2002
- b. Ley 756 de 2010
- c. Ley 710 de 2015

2. Indique el tipo de señales que contiene el Código Nacional de Tránsito.

- ☒ a. Preventivas, Informativas, Restrictivas.
- b. Informativas, Restrictivas, de orden.
- c. Preventivas, de orden, Informativas

3. Indique la jerarquía de priorización de actores Viales

- ☒ a. Peatones, ciclistas, motos, transporte de carga, autos y transporte público.
- b. Autos, motos, Peatones, ciclistas, transporte público y transporte de carga.
- c. Peatones, ciclistas, transporte público, transporte de carga, autos y motos.

4. Se define como el suceso ocasionando o en el que haya intervenido un vehículo automotor en una vía pública o privada con acceso al público.



- a. Accidente laboral.
- b. Deceso vial.
- ☒ c. Accidente de tránsito.

5. ¿Por qué el signo PARE tiene ocho lados?

- a) Porque evita más accidentes que las de forma rectangular.
- b) Sus ocho lados son los 8 segundos que debemos esperar para pasar.
- ☒ c. a y b son correctas.

Observaciones y sugerencias

Debemos respetar todas las normas de tránsito

 	EVALUACIÓN DE CONOCIMIENTOS	CÓDIGO. FO-SST-T-T23
		VERSIÓN. 1
		Pág. 1 de 2

TEMA CAPACITACIÓN	SEGURIDAD VIAL	Fecha	01-11-2023
		Hora Inicio	Hora Fin
Nombres	Maurici Arismendi	Número de identificación	1019107140
Proyecto	Men	Resultado	4

Etiqueta

R

Con sinceridad y de manera independiente responda las siguientes preguntas. Gracias por su colaboración.

PREGUNTAS

1. Cual es la norma que regula el Código Nacional de Tránsito.

- ☒ a. Ley 769 de 2002
- b. Ley 756 de 2010
- c. Ley 710 de 2015

2. Indique el tipo de señales que contiene el Código Nacional de Tránsito.

- ☒ a. Preventivas, Informativas, Restrictivas.
- b. Informativas, Restrictivas, de orden.
- c. Preventivas, de orden, Informativas

3. Indique la jerarquía de priorización de actores Viales

- ☒ a. Peatones, ciclistas, motos, transporte de carga, autos y transporte público.
- b. Autos, motos, Peatones, ciclistas, transporte público y transporte de carga.
- c. Peatones, ciclistas, transporte público, transporte de carga, autos y motos.

4. Se define como el suceso ocasionando o en el que haya intervenido un vehículo automotor en una vía pública o privada con acceso al público.



- a. Accidente laboral.
- b. Deceso vial.
- ☒ c. Accidente de tránsito.

5. ¿Por qué el signo PARE tiene ocho lados?

- a) Porque evita más accidentes que las de forma rectangular.
- ☒ b. Sus ocho lados son los 8 segundos que debemos esperar para pasar.
- c) a y b son correctas.

Observaciones y sugerencias

--

 CONSORCIO PYSKAP 2022 	EVALUACIÓN DE CONOCIMIENTOS		CÓDIGO. FO-SST-T-T23
			VERSIÓN. 1
			Pág. 1 de 2

TEMA CAPACITACIÓN	SEGURIDAD VIAL	Fecha	01-11-2023
		Hora Inicio	6:40am
Nombres	Milena Lopez	Número de identificación	7007333740
Proyecto	Men	Resultado	4

Etiqueta

R

Con sinceridad y de manera independiente responda las siguientes preguntas. Gracias por su colaboración.

PREGUNTAS

1. Cual es la norma que regula el Código Nacional de Tránsito.

- ☒ a. Ley 769 de 2002
- b. Ley 756 de 2010
- c. Ley 710 de 2015

2. Indique el tipo de señales que contiene el Código Nacional de Tránsito.

- ☒ a. Preventivas, Informativas, Restrictivas.
- b. Informativas, Restrictivas, de orden.
- c. Preventivas, de orden, Informativas

3. Indique la jerarquía de priorización de actores Viales

- ☒ a. Peatones, ciclistas, motos, transporte de carga, autos y transporte público.
- b. Autos, motos, Peatones, ciclistas, transporte público y transporte de carga.
- c. Peatones, ciclistas, transporte público, transporte de carga, autos y motos.

4. Se define como el suceso ocasionando o en el que haya intervenido un vehículo automotor en una vía pública o privada con acceso al público.



- a. Accidente laboral.
- b. Deceso vial.
- ☒ c. Accidente de tránsito.

5. ¿Por qué el signo PARE tiene ocho lados?

- a) Porque evita más accidentes que las de forma rectangular.
- ☒ b) Sus ocho lados son los 8 segundos que debemos esperar para pasar.
- c) a y b son correctas.

Observaciones y sugerencias

--

 CONSORCIO PYSRAP 2022 	EVALUACIÓN DE CONOCIMIENTOS		CÓDIGO: FO-SST-T-T23
			VERSIÓN: 1
			Pág. 1 de 2

TEMA CAPACITACIÓN	SEGURIDAD VIAL	Fecha	01-11-2023
		Hora Inicio	6:00am
Nombres	Daniela Velasquez Gonalaz	Número de identificación	1095486424
Proyecto	MEN	Resultado	5

Etiqueta

R

Con sinceridad y de manera independiente responda las siguientes preguntas. Gracias por su colaboración.

PREGUNTAS

1. Cual es la norma que regula el Código Nacional de Tránsito.

- ☒ a. Ley 769 de 2002
- b. Ley 756 de 2010
- c. Ley 710 de 2015

2. Indique el tipo de señales que contiene el Código Nacional de Tránsito.

- ☒ a. Preventivas, Informativas, Restrictivas.
- b. Informativas, Restrictivas, de orden.
- c. Preventivas, de orden, Informativas

3. Indique la jerarquía de priorización de actores Viales

- ☒ a. Peatones, ciclistas, motos, transporte de carga, autos y transporte público.
- b. Autos, motos, Peatones, ciclistas, transporte público y transporte de carga.
- c. Peatones, ciclistas, transporte público, transporte de carga, autos y motos.

4. Se define como el suceso ocasionando o en el que haya intervenido un vehículo automotor en una vía pública o privada con acceso al público.



- a. Accidente laboral.
- b. Deceso vial.
- ☒ c. Accidente de tránsito.

5. ¿Por qué el signo PARE tiene ocho lados?

- a) Porque evita más accidentes que las de forma rectangular.
- ☒ b) Sus ocho lados son los 8 segundos que debemos esperar para pasar.
- c) a y b son correctas.

Observaciones y sugerencias

--

 CONSORCIO PYSEAP 2021 	EVALUACIÓN DE CONOCIMIENTOS		CÓDIGO: FO-SST-T-T23
			VERSIÓN: 1
			Pág. 1 de 2

TEMA CAPACITACIÓN	SEGURIDAD VIAL	Fecha	01-11-2023
		Hora Inicio	6:40am
Nombres	Rosy Maribel Suarez	Número de identificación	1024499863
Proyecto	MEV	Resultado	4

Etiqueta

R

Con sinceridad y de manera independiente responda las siguientes preguntas. Gracias por su colaboración.

PREGUNTAS

1. Cual es la norma que regula el Código Nacional de Tránsito.

- ☒ a. Ley 769 de 2002
- b. Ley 756 de 2010
- c. Ley 710 de 2015

2. Indique el tipo de señales que contiene el Código Nacional de Tránsito.

- ☒ a. Preventivas, Informativas, Restrictivas.
- b. Informativas, Restrictivas, de orden.
- c. Preventivas, de orden, Informativas

3. Indique la jerarquía de priorización de actores Viales

- ☒ a. Peatones, ciclistas, motos, transporte de carga, autos y transporte público.
- b. Autos, motos, Peatones, ciclistas, transporte público y transporte de carga.
- c. Peatones, ciclistas, transporte público, transporte de carga, autos y motos.

4. Se define como el suceso ocasionando o en el que haya intervenido un vehículo automotor en una vía pública o privada con acceso al público.



- a. Accidente laboral.
- b. Deceso vial.
- ☒ c. Accidente de tránsito.

5. ¿Por qué el signo PARE tiene ocho lados?

- a) Porque evita más accidentes que las de forma rectangular.
- b) Sus ocho lados son los 8 segundos que debemos esperar para pasar.
- ☒ c) a y b son correctas.

Observaciones y sugerencias

--

 CONSORCIO PYSSAP 2022 	EVALUACIÓN DE CONOCIMIENTOS		CÓDIGO. FO-SST-T-T23
			VERSIÓN. 1
			Pág. 1 de 2

TEMA CAPACITACIÓN	SEGURIDAD VIAL	Fecha	01-11-2023
		Hora Inicio 6:40am	Hora Fin 7:40am
Nombres	Valendima Pastean N.	Número de identificación	1.014301.668
Proyecto	nien	Resultado	4

Etiqueta

R

Con sinceridad y de manera independiente responda las siguientes preguntas. Gracias por su colaboración.

PREGUNTAS

1. Cual es la norma que regula el Código Nacional de Tránsito.

- ☒ a. Ley 769 de 2002
- b. Ley 756 de 2010
- c. Ley 710 de 2015

2. Indique el tipo de señales que contiene el Código Nacional de Tránsito.

- ☒ a. Preventivas, Informativas, Restrictivas. (Reglamentarias)
- b. Informativas, Restrictivas, de orden.
- c. Preventivas, de orden, Informativas

3. Indique la jerarquía de priorización de actores Viales

- ☒ a. Peatones, ciclistas, motos, transporte de carga, autos y transporte público.
- b. Autos, motos, Peatones, ciclistas, transporte público y transporte de carga.
- c. Peatones, ciclistas, transporte público, transporte de carga, autos y motos.

4. Se define como el suceso ocasionando o en el que haya intervenido un vehículo automotor en una vía pública o privada con acceso al público.



- a. Accidente laboral.
- b. Deceso vial.
- ☒ c. Accidente de tránsito.

5. ¿Por qué el signo PARE tiene ocho lados?

- a) Porque evita más accidentes que las de forma rectangular.
- b) Sus ocho lados son los 8 segundos que debemos esperar para pasar.
- ☒ c) a y b son correctas.

Observaciones y sugerencias

Muy buena presentación

 CONSORCIO PYSEAP 2002 	EVALUACIÓN DE CONOCIMIENTOS		CÓDIGO. FO-SST-T-T23	
			VERSIÓN. 1	
			Pág. 1 de 2	

TEMA CAPACITACIÓN	SEGURIDAD VIAL	Fecha	01-11-2023	
		Hora Inicio	6:40	Hora Fin
Nombres	Edwin Salamanca	Número de identificación	79880259	
Proyecto	MEN	Resultado	5	

Etiqueta

R

Con sinceridad y de manera independiente responda las siguientes preguntas. Gracias por su colaboración.

PREGUNTAS

1. Cual es la norma que regula el Código Nacional de Tránsito.

- ☒ a. Ley 769 de 2002
- b. Ley 756 de 2010
- c. Ley 710 de 2015

2. Indique el tipo de señales que contiene el Código Nacional de Tránsito.

- ☒ a. Preventivas, Informativas, Restrictivas.
- b. Informativas, Restrictivas, de orden.
- c. Preventivas, de orden, Informativas

3. Indique la jerarquía de priorización de actores Viales

- a. Peatones, ciclistas, motos, transporte de carga, autos y transporte público.
- b. Autos, motos, Peatones, ciclistas, transporte público y transporte de carga.
- ☒ c. Peatones, ciclistas, transporte público, transporte de carga, autos y motos.

4. Se define como el suceso ocasionando o en el que haya intervenido un vehículo automotor en una vía pública o privada con acceso al público.



- a. Accidente laboral.
- b. Deceso vial.
- ☒ c. Accidente de tránsito.

5. ¿Por qué el signo PARE tiene ocho lados?

- a) Porque evita más accidentes que las de forma rectangular.
- ☒ b. Sus ocho lados son los 8 segundos que debemos esperar para pasar.
- c) a y b son correctas.

Observaciones y sugerencias

--

 CONSORCIO PYSEAP 2022 	EVALUACIÓN DE CONOCIMIENTOS		CÓDIGO: FO-SST-T-T23	
			VERSIÓN: 1	
			Pág. 1 de 2	

TEMA CAPACITACIÓN	SEGURIDAD VIAL	Fecha	01-11-2023	
		Hora Inicio	6:40am	Hora Fin
Nombres	Alejandra Dueñas	Número de identificación	1.032.477.658	
Proyecto	M.E.N	Resultado	4	

Etiqueta

R

Con sinceridad y de manera independiente responda las siguientes preguntas. Gracias por su colaboración.

PREGUNTAS

1. Cual es la norma que regula el Código Nacional de Tránsito.

- ☒ a. Ley 769 de 2002
- b. Ley 756 de 2010
- c. Ley 710 de 2015

2. indique el tipo de señales que contiene el Código Nacional de Tránsito.

- ☒ a. Preventivas, Informativas, Restrictivas.
- b. Informativas, Restrictivas, de orden.
- c. Preventivas, de orden, Informativas

3. Indique la jerarquía de priorización de actores Viales

- ☒ a. Peatones, ciclistas, motos, transporte de carga, autos y transporte público.
- b. Autos, motos, Peatones, ciclistas, transporte público y transporte de carga.
- c. Peatones, ciclistas, transporte público, transporte de carga, autos y motos.

4. Se define como el suceso ocasionando o en el que haya intervenido un vehículo automotor en una vía pública o privada con acceso al público.



- a. Accidente laboral.
- b. Deceso vial.
- ☒ c. Accidente de tránsito.

5. ¿Por qué el signo PARE tiene ocho lados?

- a) Porque evita más accidentes que las de forma rectangular.
- b) Sus ocho lados son los 8 segundos que debemos esperar para pasar.
- ☒ c) a y b son correctas.

Observaciones y sugerencias

--

 CONSORCIO PYSEAP 2021 	EVALUACIÓN DE CONOCIMIENTOS		CÓDIGO. FO-SST-T-T23
			VERSIÓN. 1
			Pág. 1 de 2

TEMA CAPACITACIÓN	SEGURIDAD VIAL	Fecha	01-11-2023
		Hora Inicio	6:40am
Nombres	Angie Nathaly clauyo Ayala	Número de identificación	1024573566
Proyecto	Men	Resultado	5

Etiqueta

R

Con sinceridad y de manera independiente responda las siguientes preguntas. Gracias por su colaboración.

PREGUNTAS

1. Cual es la norma que regula el Código Nacional de Tránsito.

- ☒ a. Ley 769 de 2002
- b. Ley 756 de 2010
- c. Ley 710 de 2015

2. indique el tipo de señales que contiene el Código Nacional de Tránsito.

- ☒ a. Preventivas, Informativas, Restrictivas.
- b. Informativas, Restrictivas, de orden.
- c. Preventivas, de orden, Informativas

3. Indique la jerarquía de priorización de actores Viales

- ☒ a. Peatones, ciclistas, motos, transporte de carga, autos y transporte público.
- b. Autos, motos, Peatones, ciclistas, transporte público y transporte de carga.
- c. Peatones, ciclistas, transporte público, transporte de carga, autos y motos.

4. Se define como el suceso ocasionando o en el que haya intervenido un vehículo automotor en una vía pública o privada con acceso al público.



- a. Accidente laboral.
- b. Deceso vial.
- ☒ c. Accidente de tránsito.

5. ¿Por qué el signo PARE tiene ocho lados?

- a) Porque evita más accidentes que las de forma rectangular.
- b) Sus ocho lados son los 8 segundos que debemos esperar para pasar.
- ☒ c. a y b son correctas.

Observaciones y sugerencias

--

 CONSORCIO PYSKAP 2022 	EVALUACIÓN DE CONOCIMIENTOS		CÓDIGO. FO-SST-T-T23
			VERSIÓN. 1
			Pág. 1 de 2

TEMA CAPACITACIÓN	SEGURIDAD VIAL	Fecha	01-11-2023
		Hora Inicio	6:30am
Nombres	SANDRA CLAVEN	Número de identificación	52 250 750
Proyecto	VEN.	Resultado	4

Etiqueta

R

Con sinceridad y de manera independiente responda las siguientes preguntas. Gracias por su colaboración.

PREGUNTAS

1. Cual es la norma que regula el Código Nacional de Tránsito.

- ☒ a. Ley 769 de 2002
- b. Ley 756 de 2010
- c. Ley 710 de 2015

1

2. Indique el tipo de señales que contiene el Código Nacional de Tránsito.

- ☒ a. Preventivas, Informativas, Restrictivas.
- b. Informativas, Restrictivas, de orden.
- c. Preventivas, de orden, Informativas

1

3. Indique la jerarquía de priorización de actores Viales

- ☒ a. Peatones, ciclistas, motos, transporte de carga, autos y transporte público.
- b. Autos, motos, Peatones, ciclistas, transporte público y transporte de carga.
- c. Peatones, ciclistas, transporte público, transporte de carga, autos y motos.

0

4. Se define como el suceso ocasionando o en el que haya intervenido un vehículo automotor en una vía pública o privada con acceso al público.

- a. Accidente laboral.
- b. Deceso vial.
- ☒ c. Accidente de tránsito.

1



5. ¿Por qué el signo PARE tiene ocho lados?

- a) Porque evita más accidentes que las de forma rectangular.
- ☒ b) Sus ocho lados son los 8 segundos que debemos esperar para pasar.
- c) a y b son correctas.

1

Observaciones y sugerencias

--

 CONSORCIO PYSAAP 2022 	EVALUACIÓN DE CONOCIMIENTOS		CÓDIGO: FO-SST-T-T23
			VERSIÓN: 1
			Pág. 1 de 2

TEMA CAPACITACIÓN	SEGURIDAD VIAL	Fecha	01-11-2023
		Hora Inicio 6:40pm	Hora Fin 7:40pm
Nombres	Claudia Susana Peña G	Número de identificación	
Proyecto	Ministerio de Educación	Resultado	4

Etiqueta

R

Con sinceridad y de manera independiente responda las siguientes preguntas. Gracias por su colaboración.

PREGUNTAS

1. Cual es la norma que regula el Código Nacional de Tránsito.

- a. Ley 769 de 2002 ☒
- b. Ley 756 de 2010
- c. Ley 710 de 2015

2. indique el tipo de señales que contiene el Código Nacional de Tránsito.

- a. Preventivas, Informativas, Restrictivas. ☒
- b. Informativas, Restrictivas, de orden.
- c. Preventivas, de orden, Informativas

3. Indique la jerarquía de priorización de actores Viales

- a. Peatones, ciclistas, motos, transporte de carga, autos y transporte público. ☒
- b. Autos, motos, Peatones, ciclistas, transporte público y transporte de carga.
- c. Peatones, ciclistas, transporte público, transporte de carga, autos y motos.

4. Se define como el suceso ocasionando o en el que haya intervenido un vehículo automotor en una vía pública o privada con acceso al público.



- a. Accidente laboral.
- b. Deceso vial.
- c. Accidente de tránsito. ☒

5. ¿Por qué el signo PARE tiene ocho lados?

- a) Porque evita más accidentes que las de forma rectangular.
- b) Sus ocho lados son los 8 segundos que debemos esperar para pasar.
- c) a y b son correctas. ☒

Observaciones y sugerencias

--

 CONSORCIO PYSSAP 2023 	EVALUACIÓN DE CONOCIMIENTOS		CÓDIGO. FO-SST-T-T23
			VERSIÓN. 1
			Pág. 1 de 2

TEMA CAPACITACIÓN	SEGURIDAD VIAL	Fecha	01-11-2023
		Hora Inicio	6:40 am
Nombres	Mayber Arevalo	Número de identificación	1.016.022.058
Proyecto	Ministerio de educación Nacional	Resultado	4

Etiqueta

R

Con sinceridad y de manera independiente responda las siguientes preguntas. Gracias por su colaboración.

PREGUNTAS

1. Cual es la norma que regula el Código Nacional de Tránsito.

- ☒ a. Ley 769 de 2002
- b. Ley 756 de 2010
- c. Ley 710 de 2015

2. Indique el tipo de señales que contiene el Código Nacional de Tránsito.

- ☒ a. Preventivas, Informativas, Restrictivas.
- b. Informativas, Restrictivas, de orden.
- c. Preventivas, de orden, Informativas

3. Indique la jerarquía de priorización de actores Viales

- ☒ a. Peatones, ciclistas, motos, transporte de carga, autos y transporte público.
- b. Autos, motos, Peatones, ciclistas, transporte público y transporte de carga.
- c. Peatones, ciclistas, transporte público, transporte de carga, autos y motos.

4. Se define como el suceso ocasionando o en el que haya intervenido un vehículo automotor en una vía pública o privada con acceso al público.



- a. Accidente laboral.
- b. Deceso vial.
- ☒ c. Accidente de tránsito.

5. ¿Por qué el signo PARE tiene ocho lados?

- a) Porque evita más accidentes que las de forma rectangular.
- ☒ b) Sus ocho lados son los 8 segundos que debemos esperar para pasar.
- c) a y b son correctas.

Observaciones y sugerencias

--

 CONSORCIO PYSKAP 2023 	EVALUACIÓN DE CONOCIMIENTOS		CÓDIGO. FO-SST-T-T23
			VERSIÓN. 1
			Pág. 1 de 2

TEMA CAPACITACIÓN	SEGURIDAD VIAL	Fecha	01-11-2023
		Hora Inicio	6:40am
Nombres	Yilbey Rodriguez	Número de identificación	1023942629
Proyecto	MEV	Resultado	4

Etiqueta

R

Con sinceridad y de manera independiente responda las siguientes preguntas. Gracias por su colaboración.

PREGUNTAS

1. Cual es la norma que regula el Código Nacional de Tránsito.

- ☒ a. Ley 769 de 2002
- b. Ley 756 de 2010
- c. Ley 710 de 2015

2. Indique el tipo de señales que contiene el Código Nacional de Tránsito.

- ☒ a. Preventivas, Informativas, Restrictivas.
- b. Informativas, Restrictivas, de orden.
- c. Preventivas, de orden, Informativas

3. Indique la jerarquía de priorización de actores Viales

- ☒ a. Peatones, ciclistas, motos, transporte de carga, autos y transporte público.
- b. Autos, motos, Peatones, ciclistas, transporte público y transporte de carga.
- c. Peatones, ciclistas, transporte público, transporte de carga, autos y motos.

4. Se define como el suceso ocasionando o en el que haya intervenido un vehículo automotor en una vía pública o privada con acceso al público.



- a. Accidente laboral.
- b. Deceso vial.
- ☒ c. Accidente de tránsito.

5. ¿Por qué el signo PARE tiene ocho lados?

- a) Porque evita más accidentes que las de forma rectangular.
- ☒ b) Sus ocho lados son los 8 segundos que debemos esperar para pasar.
- c) a y b son correctas.

Observaciones y sugerencias

--

 CONSORCIO PYSKAP 2022 	EVALUACIÓN DE CONOCIMIENTOS		CÓDIGO. FO-SST-T-T23
			VERSIÓN. 1
			Pág. 1 de 2

TEMA CAPACITACIÓN	SEGURIDAD VIAL	Fecha	01-11-2023
		Hora Inicio	6:40am
Nombres	Angelica Martinez Hernandez	Número de identificación	39576909.
Proyecto	Ministerio de Educacion Nacional.	Resultado	4

Etiqueta

R

Con sinceridad y de manera independiente responda las siguientes preguntas. Gracias por su colaboración.

PREGUNTAS

1. Cual es la norma que regula el Código Nacional de Tránsito.

- ☒ a. Ley 769 de 2002
- b. Ley 756 de 2010
- c. Ley 710 de 2015

2. Indique el tipo de señales que contiene el Código Nacional de Tránsito.

- ☒ a. Preventivas, Informativas, Restrictivas.
- b. Informativas, Restrictivas, de orden.
- c. Preventivas, de orden, Informativas

3. Indique la jerarquía de priorización de actores Viales

- ☒ a. Peatones, ciclistas, motos, transporte de carga, autos y transporte público.
- b. Autos, motos, Peatones, ciclistas, transporte público y transporte de carga.
- c. Peatones, ciclistas, transporte público, transporte de carga, autos y motos.

4. Se define como el suceso ocasionando o en el que haya intervenido un vehículo automotor en una vía pública o privada con acceso al público.

- a. Accidente laboral.
- b. Deceso vial.
- ☒ c. Accidente de tránsito.

5. ¿Por qué el signo PARE tiene ocho lados?

- a) Porque evita más accidentes que las de forma rectangular.
- ☒ b) Sus ocho lados son los 8 segundos que debemos esperar para pasar.
- c) a y b son correctas.

Observaciones y sugerencias

--